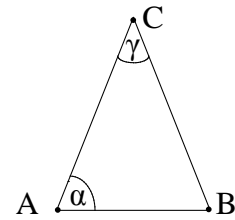


- 6 Gib das Winkelmaß α des gleichschenkligen Dreiecks ABC mit $\overline{AC} = \overline{BC}$ an, wenn gilt: $\gamma = 4\alpha$.




___/1

$\alpha =$ _____

Die Skizze ist nicht maßtreu.

- 7 Für das gleichschenklige Trapez PQRS gilt:
 $\sphericalangle QPS = 70^\circ$, $[PQ] \parallel [RS]$, $\overline{PS} = 3\text{cm}$.
 Ergänze die Zeichnung zum gleichschenkligen Trapez PQRS.

___/1



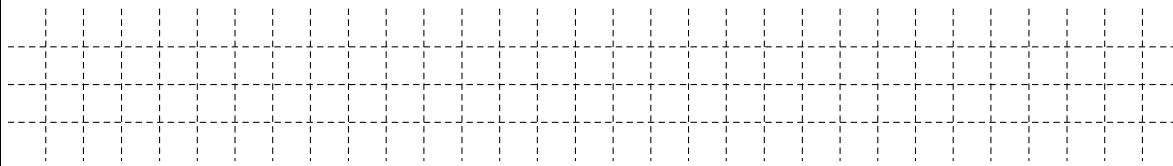
- 8 Der Punkt M (20|1) ist der Mittelpunkt der Strecke [AB] mit A (2|5) und B (x|-3). Gib die x-Koordinate des Punktes B an.

___/1

B (_____ | -3)

- 9 Bei einer Umfrage äußerte jeder fünfte Befragte, er sei mit seiner Berufswahl zufrieden. Das waren 80 Personen.
 360 Personen gaben bei der gleichen Umfrage an, sie würden sich ein höheres Gehalt wünschen.
 Wie viel Prozent der Befragten wünschen sich ein höheres Gehalt?

___/1



_____ % der Befragten wünschen sich ein höheres Gehalt.

- 10 Zwei der folgenden quadratischen Terme ($G = Q$) haben für $x = 2$ ein Maximum oder ein Minimum mit dem Wert 7.
 Kreuze die beiden Terme an.

___/1

$T(x) = -2(x - 2)^2 + 7$

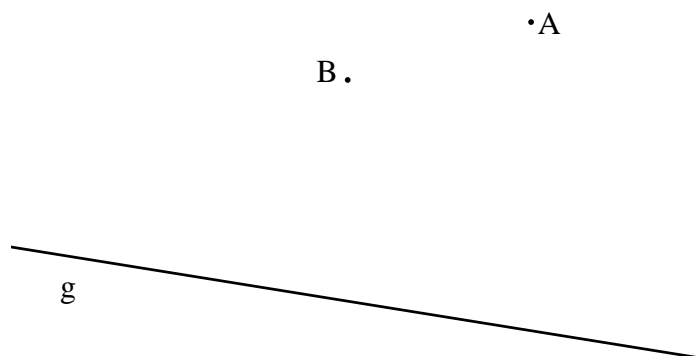
$T(x) = 3(x - 2)^2 + 7$

$T(x) = -(x - 7)^2 + 2$

$T(x) = 2x^2 + 7$

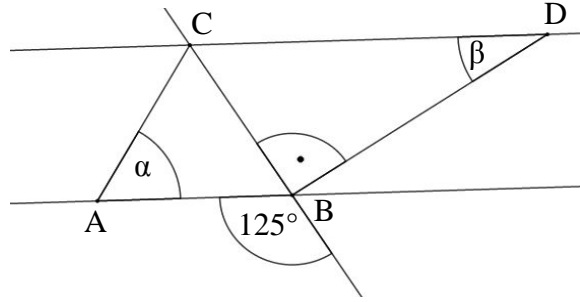
- 11 Die Punkte A und B sind Eckpunkte des gleichschenkligen Dreiecks ABC mit der Basis [AB].
 Der Punkt C dieses Dreiecks liegt auf der Geraden g.
 Ermittle den Eckpunkt C.

___/1



- 18 Ermittle die fehlenden Winkelmaße α und β , wenn gilt:

$AB \parallel CD$ und $\overline{AC} = \overline{BC}$.



___/1

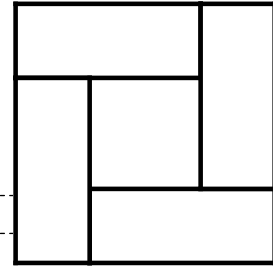
___/1

$\alpha =$ _____	$\beta =$ _____
------------------	-----------------

Die Skizze ist nicht maßstreu.

- 19 Das große Quadrat setzt sich aus 4 deckungsgleichen Rechtecken und einem kleinen Quadrat zusammen. Jedes Rechteck hat einen Umfang von 20 cm.

Welchen Umfang hat das große Quadrat?

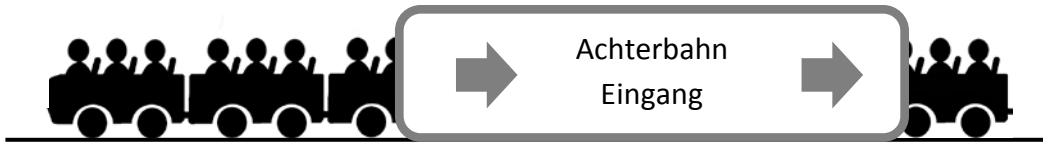


___/1

Die Abbildung ist nicht maßstreu.

Der Umfang des großen Quadrates beträgt _____ cm.

- 20 Der Zug einer Achterbahn besteht aus lauter gleichen Waggons (siehe Abbildung). In jeder Reihe können zwei Personen nebeneinander sitzen. Ein Teil des Zuges wird durch ein Schild verdeckt.



Der Betreiber nahm insgesamt 210 € für eine Fahrt ein, bei der alle Plätze besetzt waren.

Wie hoch ist der Fahrpreis pro Person?

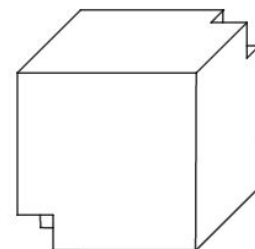
___/1

Der Fahrpreis beträgt _____ € pro Person.

- 21 Aus einem Würfel mit der Kantenlänge 5 cm wurden zwei kleinere Würfel mit jeweils einer Kantenlänge von x cm ausgeschnitten ($0 < x < 2,5$; $x \in \mathbb{Q}$).

Wie lässt sich das Volumen V des so entstandenen Körpers (siehe Abbildung) in Abhängigkeit von x darstellen?

Kreuze an.



___/1

- | | |
|---|---|
| <input type="checkbox"/> $V(x) = (125 - x^3) \text{ cm}^3$ | <input type="checkbox"/> $V(x) = ((125 - 2)x^3) \text{ cm}^3$ |
| <input type="checkbox"/> $V(x) = (125 - 2x^3) \text{ cm}^3$ | <input type="checkbox"/> $V(x) = (2x^3 - 5^3) \text{ cm}^3$ |

Viel Erfolg!

